

話聞

1

だれがなにをしたかはなそう

ねん
年 組

ゴール 「わたしは...しました」など、主語をたたくつからせて話そう。

一 せんせいが、「きのう、あなたやかぞくがしたことをおしえてください。」

といました。せんせいにしらせたいことを三つかいてみましょう。

二 せんせいにわかるように、だれがなにをしたか、話しましょう。

きのうしたこと①

【したことのみげかた】

きのうのあさおきてから、
よるれるまでのあいたのことを
おもいだそう。

・うれしかったこと

・たのしかったこと

・かなしかったこと

など。

きのうしたこと②

【かきかたのれい】

わたしは、きのうのよる、
かぞくといっしょにおすしを
たべにきました。

※だれがなにをしたのかわかるよ
うにかこう。

きのうしたこと③

ふりかえり

・「わたしは...しました」と、だれが、なにをしたのかを、かくことができました。()

・きのうしたことを三つかくことができました。()

・ともだちに、「わたしは...しました」など、だれが、なにをしたのかを、はなすこ
うができました。()

話聞：「私は...です」など主語を明確につけて話す。

しゅくだいプリント① 算()

- ① $5 + 8 =$ ⑮ $5 + 1 - 4 =$ ⑳ $11 - 4 =$
 ② $7 + 4 =$ ⑯ $7 + 2 - 6 =$ ㉑ $15 - 9 =$
 ③ $4 + 9 =$ ⑰ $8 - 5 + 3 =$ ㉒ $13 - 8 =$
 ④ $6 + 8 =$ ⑱ $4 + 4 + 2 =$ ㉓ $11 - 5 =$
 ⑤ $7 + 9 =$ ㉀ $5 + 2 - 6 =$ ㉔ $12 - 3 =$
 ⑥ $8 + 8 =$ ㉁ $2 + 3 + 4 =$ ㉕ $13 - 4 =$
 ⑦ $6 + 6 =$ ㉂ $10 - 2 + 2 =$ ㉖ $17 - 9 =$
 ⑧ $8 + 3 =$ ㉃ $7 + 2 - 3 =$ ㉗ $14 - 8 =$
 ⑨ $9 + 6 =$ ㉄ $10 - 4 - 4 =$ ㉘ $12 - 4 =$
 ⑩ $6 + 8 =$ ㉅ $3 + 5 - 6 =$ ㉙ $15 - 7 =$
 ⑪ $2 + 9 =$ ㉆ $8 - 2 + 4 =$ ㉚ $13 - 6 =$
 ⑫ $7 + 6 =$ ㉇ $2 + 2 + 6 =$ ㉛ $12 - 8 =$
 ⑬ $6 + 5 =$ ㉈ $6 - 4 + 8 =$ ㉜ $11 - 2 =$
 ⑭ $8 + 7 =$ ㉉ $10 - 7 - 2 =$ ㉝ $16 - 9 =$

【小学校算数・ワークブック】


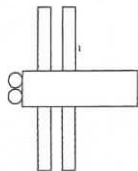
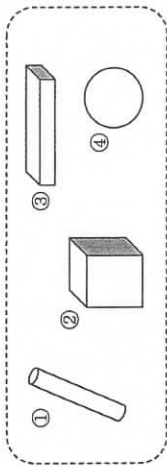
ねん
2ねん

かたち


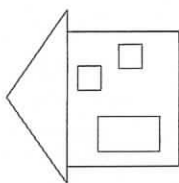
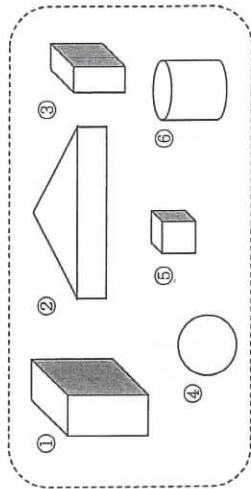
ねん くみ なまえ

1 したのような かたちを かみのうえにおき、そのまわりを えんぴつでなぞって うつしながら あそんでいきます。

(1) つばきさんは、つみきを 2つ つかっ
とんぼをつくりました。
つかった はこは どれと どれですか。



(2) みなみさんは つみきを 4つ つかっ
いえをつくりました。
つかって いない つみきは どれと どれですか。



【小学校算数・ワークブック】

がくねん

2ねん

ながさ (2)

ねん くみ なまえ

1 うさぎ、さる、ライオンの 3びきが「ながさくらべ」のしかたを はなしあっています。

① あうものをを せんで つなぎましょう。

「ながい テープを つかって テープの どこまでの
ながさか するしを つけるといいよ。」


「はしを そろえて ならべてみると どちらが
ながいか わかるね。」

「おなじながさの ブロックを たくさん もってきて
ブロックが なんこぶんあるかで くらべようよ。」

② あなたが きの まわりの ながさを はかるときには
うさぎ、さる、ライオンの どのほうで はかりますか。

() の ほうほうで はかる

2 きつねと ねずみが ドッジボールのコートで かこうとしています。



おやおや、これでは うまくコートが
かけませんよ。 なぞうまくかけないか
ふたりに おしえてあげましょう。

しゃくだいプリント

名まえ ()

- ① 30 + 30 =
- ② 40 + 20 =
- ③ 10 + 70 =
- ④ 50 + 7 =
- ⑤ 90 + 9 =
- ⑥ 30 + 8 =
- ⑦ 70 + 8 =
- ⑧ 72 + 5 =
- ⑨ 55 + 2 =
- ⑩ 83 + 2 =
- ⑪ 31 + 4 =
- ⑫ 20 + 6 =
- ⑬ 30 + 40 =
- ⑭ 80 + 10 =
- ⑮ 80 + 2 =
- ⑯ 50 - 40 =
- ⑰ 60 - 20 =
- ⑱ 50 - 50 =
- ⑲ 40 - 10 =
- ⑳ 80 - 30 =
- ㉑ 75 - 5 =
- ㉒ 65 - 5 =
- ㉓ 63 - 3 =
- ㉔ 50 - 20 =
- ㉕ 90 - 30 =
- ㉖ 90 - 70 =
- ㉗ 83 - 3 =
- ㉘ 94 - 4 =
- ㉙ 85 - 5 =
- ㉚ 58 - 8 =