

しゅくだいプリント③ 算(こたえ)

- ①  $8 + 9 = 17$     ⑮  $20 + 70 = 90$     ⑲  $5 + 1 - 4 = 2$
- ②  $13 - 9 = 4$     ⑯  $60 - 30 = 30$     ⑳  $9 - 4 - 2 = 3$
- ③  $9 + 3 = 12$     ⑰  $50 + 40 = 90$     ㉑  $3 + 3 + 4 = 10$
- ④  $17 - 8 = 9$     ⑱  $90 - 30 = 60$     ㉒  $6 + 4 - 8 = 2$
- ⑤  $9 + 2 = 11$     ⑳  $30 + 30 = 60$     ㉓  $7 - 5 + 3 = 5$
- ⑥  $12 - 6 = 6$     ㉑  $70 - 40 = 30$     ㉔  $10 - 7 - 2 = 1$
- ⑦  $6 + 8 = 14$     ㉒  $23 + 5 = 28$     ㉕  $9 - 3 - 3 = 3$
- ⑧  $18 - 9 = 9$     ㉓  $63 + 2 = 65$     ㉖  $6 - 4 + 8 = 10$
- ⑨  $9 + 9 = 18$     ㉔  $76 + 1 = 77$     ㉗  $2 + 2 + 6 = 10$
- ⑩  $11 - 7 = 4$     ㉕  $83 + 6 = 89$     ㉘  $8 - 2 + 4 = 10$
- ⑪  $7 + 8 = 15$     ㉖  $55 - 4 = 51$     ㉙  $3 + 4 + 2 = 9$
- ⑫  $14 - 5 = 9$     ㉗  $93 - 3 = 90$     ㉚  $4 - 2 + 6 = 8$
- ⑬  $7 + 6 = 13$     ㉘  $48 - 6 = 42$     ㉛  $3 + 6 - 2 = 7$
- ⑭  $15 - 8 = 7$     ㉙  $72 - 2 = 70$     ㉜  $8 - 7 + 5 = 6$

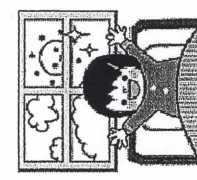
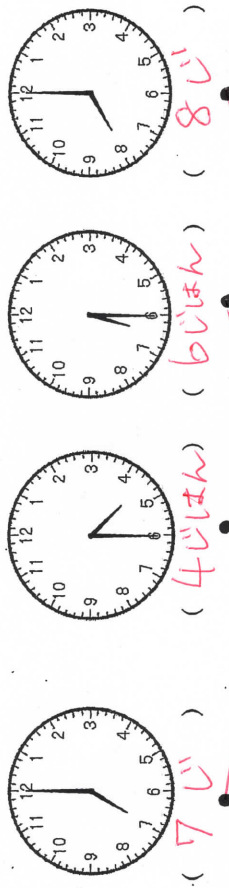
【小学校算数・ワークブック】

がくねん  
2ねん


なんじ なんじはん

ねん くみ なまえ


① ①とけいを よんで じこくを かきこみましょう。



おきたじこく ( 7じ )



じこく ( 4じはん ) ( 6じはん ) ( 8じ )



あさごはん ( 2 )

② えと じこくを せんで むすびましょう。  
③ えの したに じゆんぼんを かきましよう。

② じぶんが おきてから したことを なんじ につかて せつめいしよう。

れい)・7じにおきて、7じはんにあさごはんをたべて、8じにいえをでました。  
・7じにあさごはんをたべて、8じに学校にきました。  
・8じはんからべんき巧をいれました。  
・9じはんからさんすうのべんき巧をして、12じはんからきやうは(と)きました。

ぼくは 7じはんにいえを でて、8じに がっこうについて ...

なんじはんを

しゃくだいプリント④ **たえ** ( **こたえ** )

1 いちねんせい 14にん います。  
 さんねんせい は、いちねんせいより 6にん  
 すくないそうです。  
 さんねんせい は なんにん いますか。

(しき)  $14 - 6 = 8$   
 こたえ **8にん**

2 きんぎょが 9ひき います。  
 めだかは、きんぎょより 8ひき おおい  
 ようです。めだかは なんびき いますか。

(しき)  $9 + 8 = 17$   
 こたえ **17ひき**

3 ぼくじょうにうまが 3とう います。  
 うしは、うまより 8とう おおいそうです。  
 うしは なんとう いますか。

(しき)  $3 + 8 = 11$   
 こたえ **11とう**

【小学校算数・ワークブック】

がくねん **2** ねん  
 ひきざん (1)

ねん くみ なまえ

1 ひきざんの カードが ならんでいます。

2-1	3-1	4-1	あ	6-1	7-1
3-2	4-2	5-2	う	6-2	7-2
4-1	5-3	6-3		7-3	
4-1	5-4	6-4	い	7-5	7-6

よこにみると  
 4-1 あ 6-1  
 と なるね。

たてに みると  
 あ 5-2 5-3 5-4

たてに みるなら  
 5-2 5-3 5-4

(1) あ い う  
 あ **5-1** い **7-4** う **4-3**

にはいる しきを かきましよう。

(2) 1の カードの なかで こたえが 2 になる ものに あかいろを ぬりましよう。

いろを ぬって きていたことを かいてね!

- ななめにならんている。
- かいだんみたい。
- こたえが おなじカードは いろんな ななめにならんている。



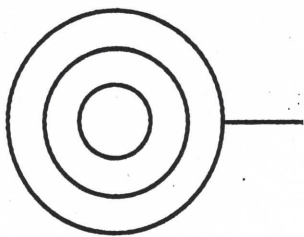
ゴール 「はじめに…」 つぎに…」 など、じゅんばんに気をつけて話そう。

一 ひみつのマークをあててもらえるようにせつめいしてみましょう。

あてもらうコツは、**れい**のように、「はじめに…」 つぎに…」 それから…」 とじゅんばんにせつめいすることです。

**れい**

ひみつのマーク



せつめい

はじめに、 にじゅうまるをひとつかきます。

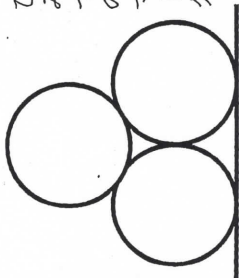
つぎに、 そのにじゅうまるのそとがわをかこむように大きなまるをひとつかきます。

それから、 ぼうつきキャンデーのぼうのように、 いちばんそとがわのまるから下にむかってたてぼうを一本かきます。

これで、 できあがりです。

**1**

ひみつのマーク



せつめい

はじめに、 ようぼうも一本かきます。

つぎに、 そのぼうのうえにいくつもあるよつに、 同じ大きさのまるも二つかきます。 二つのおおきはひとついています。

それから、 まる二つのうえに同じ大きさのまるも一つのせま。

これで、 できあがりです。

二 **2**には、自分で、まるが三つと、ぼうが一本でできたひみつのマークをかいて、それをとなりの人にあててもらいましょう。二人ぐみになり、一人は図のせつめいをして、もう一人はせつめいを聞いて、このプリントのうらに図をかきましょう。

**2**

ひみつのマーク

せつめい

はじめに、 おおきはまるも一つかきます。

つぎに、 まるのなかにたてぼうも一本かきます。

それから、 まるのなかのぼうのみぎがわとひだりがわに、 まるとぼうにくつつくまるも一つずつかきます。

これで、 できあがりです。

ふりかえり

じゅんばんに気をつけてせつめいすることができた。 ( )

きいた人が、ただしく図をかけるように、せつめいすることができた。 ( )

せつめいをよく聞いて、図をかくことができた。 ( )