

かん字のれしゅう

なまえ (なまえ)

① 名 な まえをつける。

③ 町 まち < いく。

⑤ 五円 ごえん あまる。

⑦ ひなが ひなが 生 う まれる。

⑨ 耳 みみ を すます。

⑪ 口 くち を とじる。

⑬ 目 め を さます。

⑮ カ か を 出す。

⑰ なかまに なかま 入 はい る。

⑲ 足 あし を のばす。

⑲ 千円 せんえん はらう。

⑳ 学校 がっこう の 先生 せんせい

② タ た が たの空。

④ 百 ひゃく まいの はし。

⑥ さるの 赤 あか ちゃん。

⑧ おとなと 子 こ ども。

⑩ 王 おう さまの はなし。

⑫ 一 いち 年 ねん が すぎる。

⑭ 草 くさ が はえる。

⑯ 貝 かい を たぐる。

⑰ 右 みぎ に まがる。

⑲ 石 いし を ひらう。

⑲ 文字 もじ を かく。

⑳ よく よく 気 き が づく。

しゅくだい(問題)⑥ 答え (こたえ)

1 バスにヒトがならんでいます。
 なつみさんのまえに6人、うしろに
 3人ならんでいます。
 みんなでなんにんならんでいますか。

(しき) $6 + 3 + 1 = 10$

こたえ 10にん

2 こどもが12にんいます。こまが8こ
 あります。こどもが1こずつこまを
 あそぶと、こまは、なんこたりませんか。

(しき) $12 - 8 = 4$

こたえ 4こ

3 とらねこが5ひきいます。
 びちねこはとらねこより9ひきおおいです。
 びちねこはなんひきいますか。

(しき) $5 + 9 = 14$

こたえ 14ひき

【小学校算数・図形】

学習日： 月 日 ()

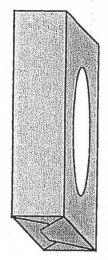
かくねん かたち
 2ねん ねん くみ なまえ

1 どのむき(ほうこう)にも ころがるものに ⊙、ひとつのむき(ほうこう)に
 ころがるものに○、ころがりにくいものには △を かきましよう。

- ① ドッジボール
- ② ティッシュのはこ



[⊙]



[△]

- ③ いたのかたちのチョコのはこ
- ④ うすぺらい かんづめの かん

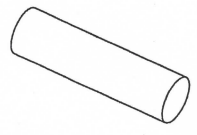


[△]



[○]

- ⑤ サラシラツツの しん
- ⑥ ペンポンだま

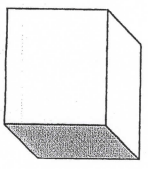


[○]

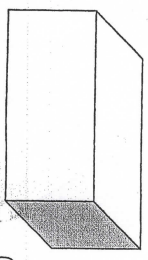


[⊙]

- ⑦ ボールが はいっていた はこ
- ⑧ ダンボールはこ



[△]



[△]

しゅくだいプリント⑤ 算(ごたえ)

- ① $2 + 1 = 3$ ⑮ $12 + 3 = 15$ ⑲ $40 + 30 = 70$
- ② $4 - 1 = 3$ ⑯ $16 - 2 = 14$ ⑳ $50 - 40 = 10$
- ③ $6 + 3 = 9$ ⑰ $15 + 1 = 16$ ㉑ $60 + 20 = 80$
- ④ $7 - 2 = 5$ ⑱ $18 - 3 = 15$ ㉒ $80 - 60 = 20$
- ⑤ $4 + 4 = 8$ ⑲ $17 + 2 = 19$ ㉓ $50 + 50 = 100$
- ⑥ $8 - 5 = 3$ ㉔ $17 - 7 = 10$ ㉜ $90 - 20 = 70$
- ⑦ $3 + 7 = 10$ ㉕ $5 + 9 = 14$ ㉝ $20 + 8 = 28$
- ⑧ $10 - 3 = 7$ ㉖ $13 - 5 = 8$ ㉞ $32 - 2 = 30$
- ⑨ $9 + 0 = 9$ ㉗ $7 + 8 = 15$ ㉟ $55 + 3 = 58$
- ⑩ $10 - 9 = 1$ ㉘ $14 - 7 = 7$ ㊱ $88 - 3 = 85$
- ⑪ $10 + 6 = 16$ ㉙ $4 + 7 = 11$ ㊲ $33 + 4 = 37$
- ⑫ $3 - 0 = 3$ ㉚ $11 - 6 = 5$ ㊳ $47 - 4 = 43$
- ⑬ $11 + 6 = 17$ ㉛ $8 + 5 = 13$ ㊴ $2 + 7 - 4 = 5$
- ⑭ $7 - 7 = 0$ ㉜ $15 - 6 = 9$ ㊵ $10 - 4 + 3 = 9$

【小学生算数・ワークブック】

学習日： 月 日 ()

がくねん 2 ねん ひきざん (1)

ひきざんの おはなしに ○ を つけましょう。
ねん くみ なまえ _____

かめが 6びき いました。2ひき にがしました。
なんびき のこっていますか。



(0)

きのう あめを 4こ たべました。きょうは 3こ たべました。たべた あめは いくつでしょう。



()

ひろばに こどもが 7にん います。3にん かえりました。
ひろばに いるのは なんにん ですか。



(0)

② しきに あうものを せん () で つなぎましょう。

○ ○ ○ ○ ○ ○
ここから せんぶ とる。



5 - 5

○ ○ ○ ○ ← ○ ○ ○

5 - 1

りんごが 5こ あります。
1こ あげました。



3 + 2