

かん字のれんしゅう

はまえ()

① まえをつける。

② がたの空。

③ くいく。

④ まいのはは。

⑤ あまる。

⑥ ちるの ちせん。

⑦ ひなが まれる。

⑧ おとなし ども。

⑨ をすます。

⑩ ちまのはやし。

⑪ をとじる。

⑫ がすがる。

⑬ をちます。

⑭ がはえる。

⑮ を出す。

⑯ をたぐる。

⑰ なかまに 。

⑱ にまがる。

⑲ をのばす。

⑳ をひろう。

㉑ はらう。

㉒ をかく。

㉓ の 。

㉔ よく がつく。

【小学校算数・ワークブック】

がくねん
2ねん

ひきざん (1)

ねん くみ なまえ

1 ひきざんの おはなしに ○を つけましょう。

かめが 6びき いました。2ひき にがしました。
なんびき のこっていますか。

()

きのう あめを 4こ たべました。きょうは 3こ
たべました。たべた あめは いくつでしょう。

() の なかに、
○を かいてね。

()

ひろばに こどもが 7にん います。3にん かえりました。
ひろばに いるのは なんにん ですか。

()

2 しきに あうものを せん (—) で つなぎましょう。

○ ○ ○ ○ ○
ここから ぜんぶ とる。

5 - 5

○ ○ ○ ← ○ ○ ○

5 - 1

りんごが 5こ あります。
1こ あげました。

3 + 2

しゅくだいプリント⑤算()

- ① 2 + 1 =
- ② 4 - 1 =
- ③ 6 + 3 =
- ④ 7 - 2 =
- ⑤ 4 + 4 =
- ⑥ 8 - 5 =
- ⑦ 3 + 7 =
- ⑧ 10 - 3 =
- ⑨ 9 + 0 =
- ⑩ 10 - 9 =
- ⑪ 10 + 6 =
- ⑫ 3 - 0 =
- ⑬ 11 + 6 =
- ⑭ 7 - 7 =
- ⑮ 12 + 3 =
- ⑯ 16 - 2 =
- ⑰ 15 + 1 =
- ⑱ 18 - 3 =
- ⑲ 17 + 2 =
- ⑳ 17 - 7 =
- ㉑ 5 + 9 =
- ㉒ 13 - 5 =
- ㉓ 7 + 8 =
- ㉔ 14 - 7 =
- ㉕ 4 + 7 =
- ㉖ 11 - 6 =
- ㉗ 8 + 5 =
- ㉘ 15 - 6 =
- ㉙ 40 + 30 =
- ㉚ 50 - 40 =
- ㉛ 60 + 20 =
- ㉜ 80 - 60 =
- ㉝ 50 + 50 =
- ㉞ 90 - 20 =
- ㉟ 20 + 8 =
- ㊱ 32 - 2 =
- ㊲ 55 + 3 =
- ㊳ 88 - 3 =
- ㊴ 33 + 4 =
- ㊵ 47 - 4 =
- ㊶ 2 + 7 - 4 =
- ㊷ 10 - 4 + 3 =

がくねん
2ねん

かたち

ねん くみ なまえ


1 どのむき(ほうこう)にも ころがるものに ◎、ひとつの むき(ほうこう)に ころがるものに○、ころがりにくい ものには △を かきましよう。

① ドッジボール



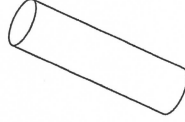
[]

③ いたの かたちの チョココのはこ



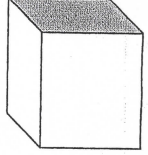
[]

⑤ サランラップの しん



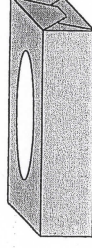
[]

⑦ ボールが はいっていた はこ



[]

② ティッシュのはこ



[]

④ うすっぺらい かんづめの かん



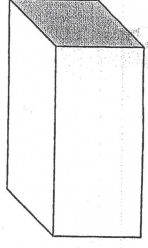
[]

⑥ ピンポンだま



[]

⑧ ダンボールばこ



[]

しゃくだいプリント⑥箋()

1 バスでいいにひとがならんでいます。
なつみさんのまえにもにん、うしろに
るにんならんでいます。
みんなでなんにんならんでいますか。

(しき)

こたえ

2 こどもが12にんいます。こまが8こ
あります。こどもが1こずつこまで
あそぶと、こまは、なんこたりませんが。

(しき)

こたえ

3 とらねこが5ひきいます。
がちなこはとらねこより9ひきおおいです。
がちなこはなんびきいますか。

(しき)

こたえ